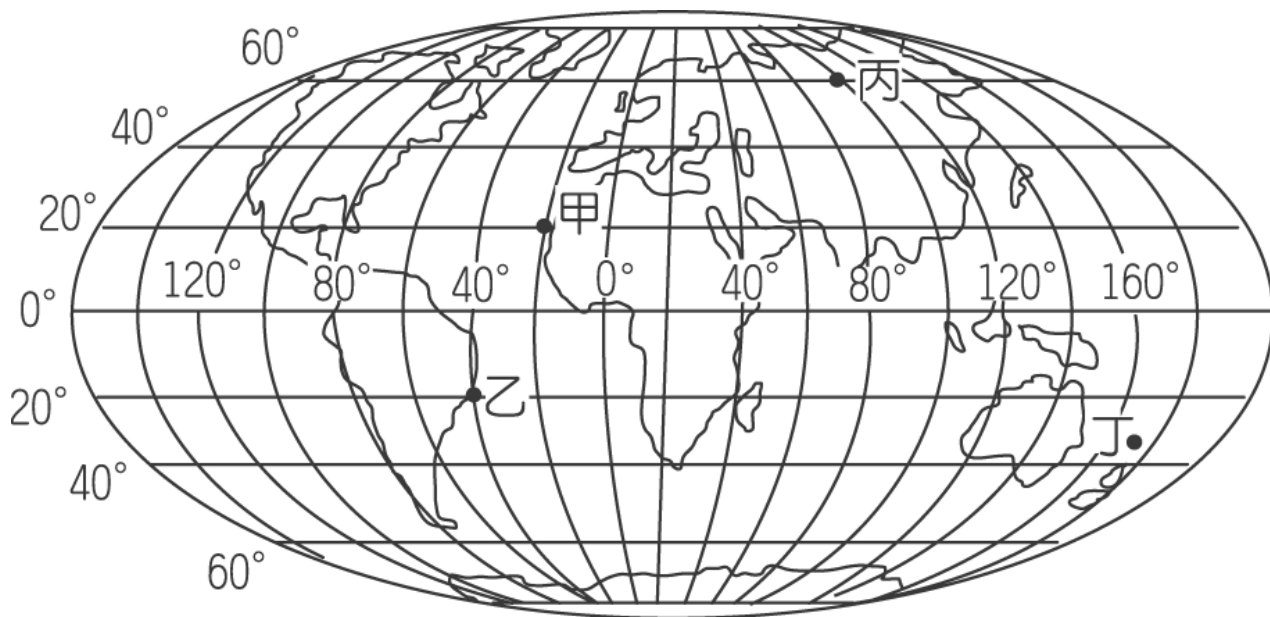


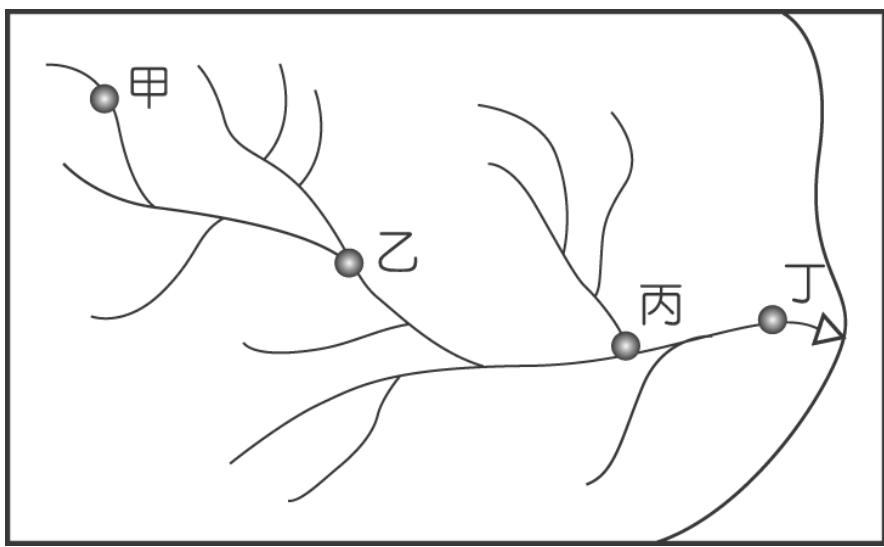
1213 年度地理月攤位遊戲題目 (B)

1. 澳門特別行政區最高的山是哪一座。
2. 澳門屬於哪種氣候類型？
3. 世界最大的岩石位於哪個國家？
4. 世界文化遺產「吳哥窟」是位於哪個國家？
5. 巴西國旗中代表赤道的環帶上，書寫的文字是什麼語？
6. 我們大多可從國旗上的一些圖案去了解一個國家的概況，若國旗上有彎月的圖案，我們可判斷該國的宗教信仰為何？
7. 號稱世界八大奇景的「巴拿威梯田」(BANAUE)是位於哪個島嶼？
8. 下圖為世界地圖，圖中甲、乙、丙、丁四地，何者可以最早見到日出？



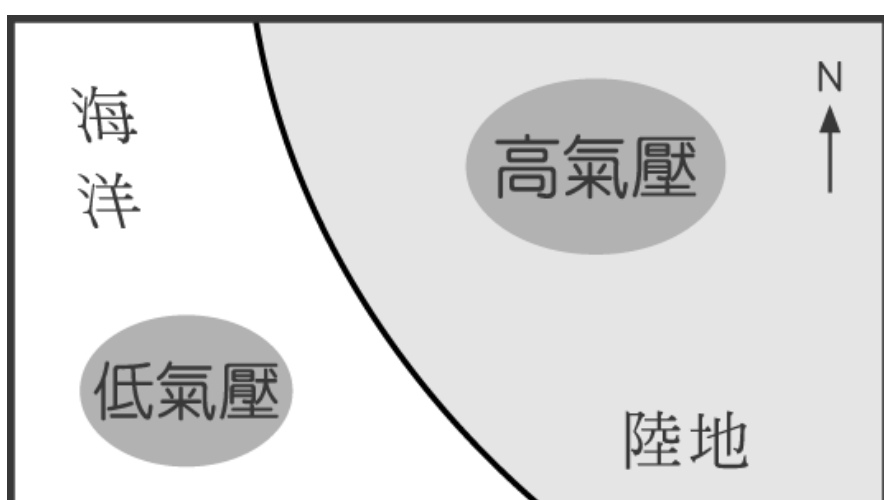
9. 四大洋中，跨經度最廣的是哪個洋？
10. 世界上主要的地震帶和火山帶是甚麼？
11. 在地球的結構中，哪一層是密度最高的一層？
12. 地圖中把地面上相同高度的各點連接起來的線稱為甚麼？

13. 荒漠的日夜溫差大是由於缺乏了甚麼的覆蓋？
14. 請寫出世界上最乾旱的荒漠。
15. 澳門就業人口主要從事第幾級產業？
16. 歐盟共有多少個成員國？
17. 澳門的位置在香港的哪個方向？
18. 哪個地區有「世界屋脊」之稱？
19. 根據《聯合國海洋法公約》，一個國家的專屬經濟海域是從海岸線往外延伸多少海浬的海域呢？
20. 「颱風於每年夏、秋之際席捲亞洲，包括菲律賓、臺灣、中國沿海、日本等地。」請問：颱風發源地主要來自於亞洲的哪一個方位？
21. 一般而言，下圖中哪一地點河川的汙染最嚴重？



22. 全球一共劃分了 24 個時區，澳門是位於哪個時區？
23. 寫出世界上最長山脈的名稱。
24. 馬爾代夫的島嶼大部分是屬於火山島、大陸島還是珊瑚島？
25. 天氣報告中，通常被高壓籠罩會出現什麼樣的天氣？

26. 寫出世界面積最大的湖泊名稱。
27. 地跨歐亞兩大洲的俄羅斯是屬於哪一個洲？
28. 香港是東亞著名的轉口貿易港，同時也是聯絡中國對外出口的交通重鎮。請問：香港對外的海上交通線直接面臨哪一個緣海？
29. 中國領土面積約等於多少個印度？
30. 中國境內，哪一個少數民族自治區因為丘陵地形廣布，因此當地居民多以梯田方式從事農業活動，形成當地發展的特色？
31. 拉丁美洲部分國家在每年夏季時皆會舉辦嘉年華會，如巴西、阿根廷等。請問：若想到這些國家與當地人一起狂歡渡過嘉年華會，應選擇幾月份出發到當地？
- A. 2月 B. 5月 C. 8月 D. 10月
32. 世界上最長的河流是哪一條？
33. 澳洲首都是哪個城市？
34. 日本四大島分別是指北海道、本州、九州和哪個島？
35. 下圖中，依照氣壓高低影響氣流方向的原則，其風向是？



36. 東南亞地區一直是中國人海外移民的重要地區，東南亞大部分的華僑主要是來自中國哪兩個省份？

37. 七大洲裡，面積最小的是哪個洲？